

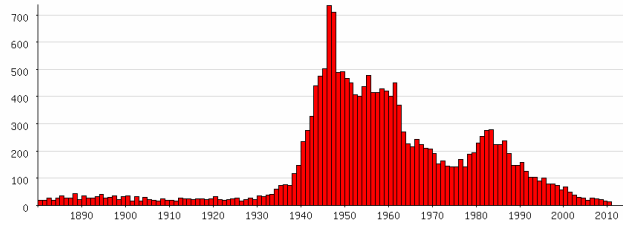
## Tentamen Namen en Cultuur 3 april 2012, 11-12.45 uur

1. Geef twee voorbeelden uit elk van de hoofdtypen van namen.
2. Noem de uitgangspunten die de werkgroep liberalisering naamrecht hanteert als uitgangspunten van het naamrecht.
3. De voornamen top-10 voor 2011 is voor jongens *Daan, Sem, Milan, Levi, Luuk, Lucas, Jayden, Thomas, Stijn en Jesse*. Geef een karakterisering van deze namen. Denk aan vorm, oorsprong (welke drie zijn niet-bijbels?), recente en oudere populariteit.
4. Geef aan hoe je een top-50 van hedendaagse uniseksnamen kunt maken uit het GBA voornamenbestand. Benoem de berekeningsproblemen en keuzen die je moet maken.
5. Onderstaand staan 2 rijen met ieder 14 namen uit de indeling van veldnamen van Schönfeld. Welke naam van het eerste rijtje hoort bij die van het tweede rijtje?

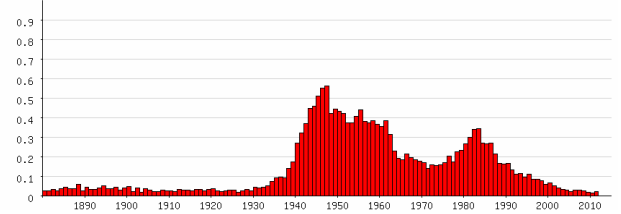
broek	honderd roeden
onland	mussenveld
gagelpolder	schapenwei
made	achterweide
zwanenduin	schans
bullenveld	waard
tien morgen	drostland
de ronde hoep	waal
de volger	de klomp
vrijthof	duivelsbelt
fles	zeggeveld
sluis	heul
hofstede	bogerd
roelofarendsveen	den haag

6. Geef een zo kort mogelijke reguliere expressie die familienamen met Steeg samenneemt: *Steeg, Steege, Steegh, Steg, Stege, Stegh, van der Steeg, Versteeg, Versteegde, Versteege, Versteegh, Versteegt, Verstege, van Steeg, van de Steeg, van de Steege, van de Steg, van der Steeg, van der Steege, van der Steegt, van der Stege, aan de Stegge, an de Stegge*
7. Waarom werden namen tot belangrijkste kenbron van vroegmiddeleeuwse taalvormen?

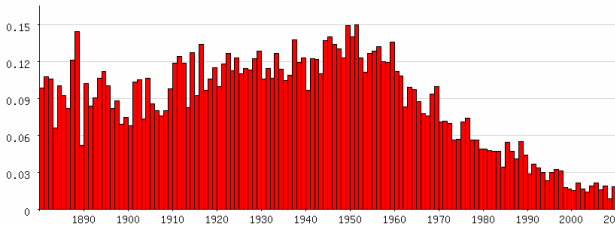
8. Becommentarieer de volgende populariteitsdistributies. Bespreek in die van *Marijke* ook het verschil tussen absolute en relatieve presentatie, en bij die van *George* en *Sjors* de samenhang.



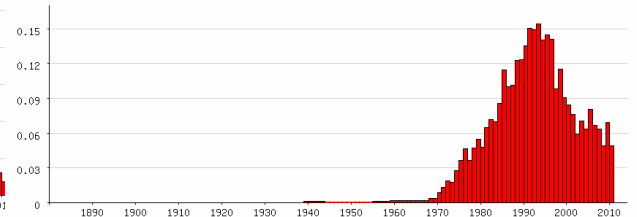
*Marijke(absoluut)*



*Marijke (relatief)*



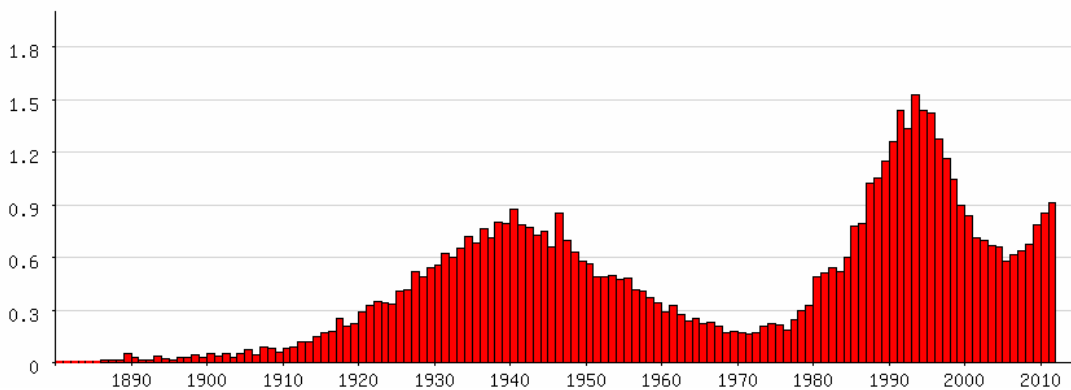
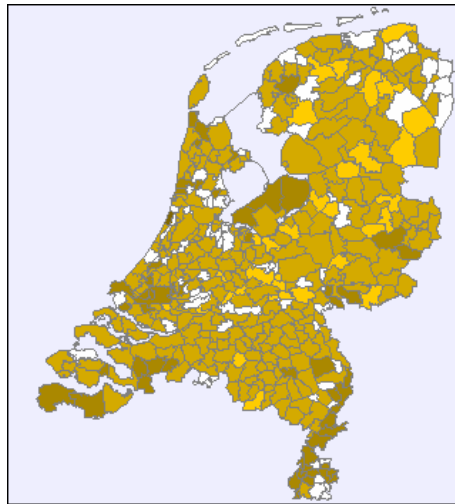
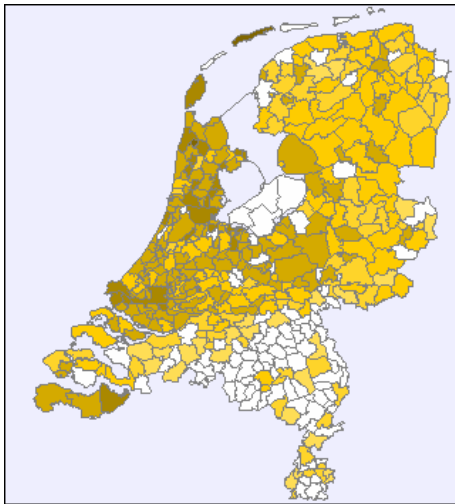
*George*



*Sjors*

9. Hieronder zie je twee verspreidingsgebieden van voornamen onder de reguliere expressie *\*ly\$* met daaronder de populariteitsverdeling ervan. Alle figuren tonen relatieve gegevens. De verspreidingen betreffen de periode 1900-1965 en 1975-2008.

- a) Welke (type) namen verwacht je met deze expressie in elke periode?
- b) Welk plaatje is welke periode, en waarom? (dwz verklaar de verspreiding)



broek, waard  
onland, duivelsbelt  
gagelpolder, zeggeveld  
made, bogerd  
zwanenduin, mussenveld  
bullenveld, schapenwei  
tien morgen, 't zwed  
de ronde hoep, de klomp  
de volger, achterweide  
vrijthof, den haag  
fles, waal  
sluis, heul  
hofstede, schans  
Roelofarendsveen, drostland