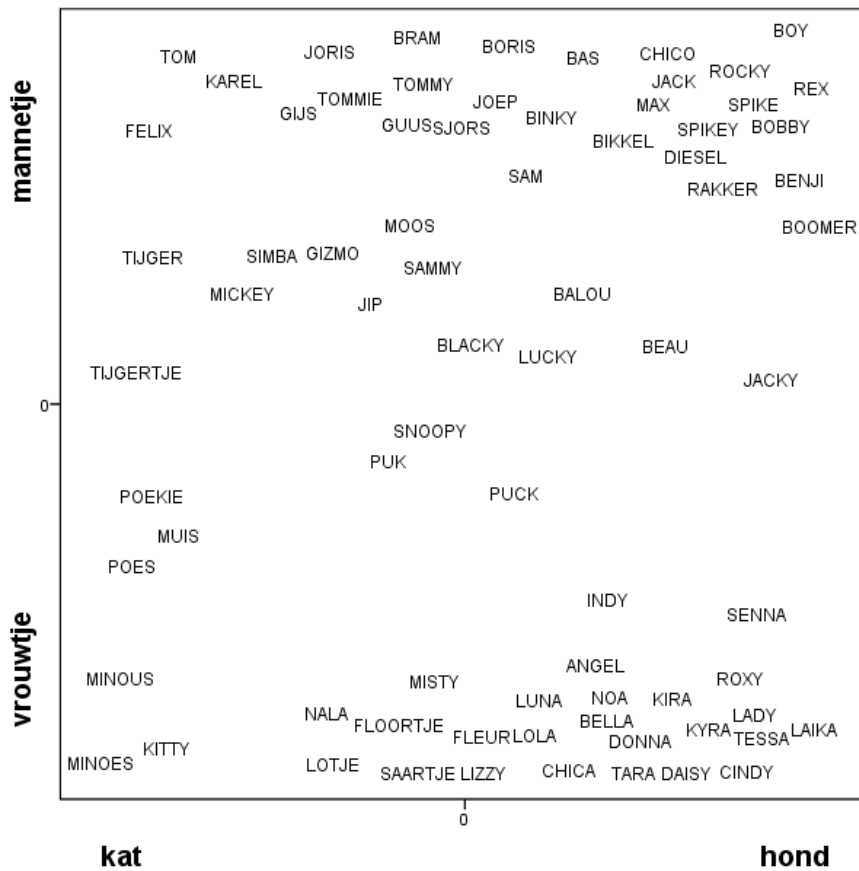
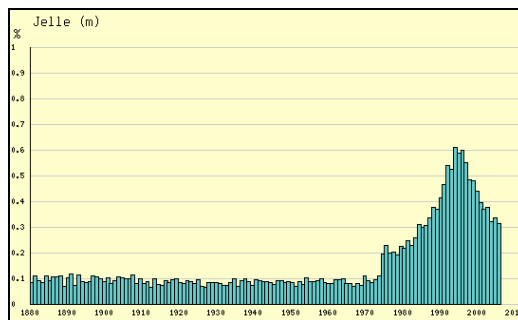
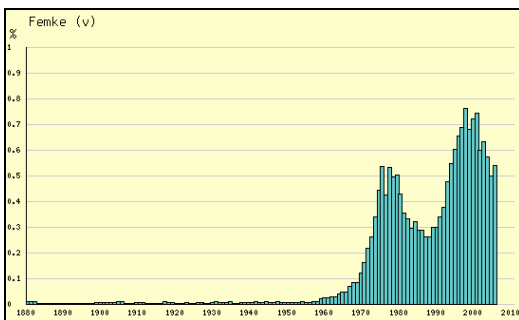


Tentamen Moderne Naamkunde 7 april 2010, 14-16 uur

- In een bestand staan de namen van 60.000 katten en de namen van 40.000 honden. De dieren zijn naar geslacht gelijk verdeeld. Veel namen komen zowel bij honden als katten en bij mannetjes en vrouwtjes voor. Hieronder staat een figuur waarin horizontaal het verschil hond-kat tot uitdrukking komt, en verticaal het verschil mannetje-vrouwtje. Een naam krijgt een positie in dat vlak naar gelang hond, kat, mannetje, vrouwtje van toepassing is (in het midden staan dus namen die zowel voor een hond als een kat, als voor een mannetje als een vrouwtje zijn te gebruiken). Hoe bepaal je de positie van een naam op basis van je bestand?



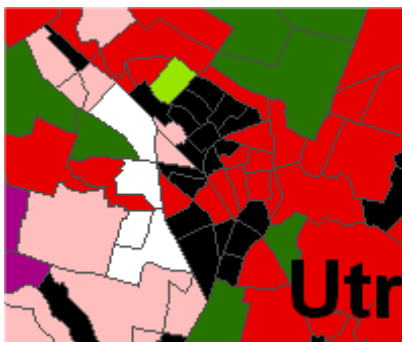
- Hieronder staan de populariteitsdistributies van Femke en Jelle. Becommentarieer ze en beschrijf daarbij een mogelijk verklarend mechanisme.



3. Schrijf een reguliere expressie die precies de volgende familienamen selecteert: *meulen, molen, mole, ter meulen, ter molen, termeulen, van de molen, van der meule, van der meulen, van der molen, vandermeulen, vermeule, vermeulen, vermolen.*
4. In Zuid-Nederland (en Vlaanderen) komen veel meer patronymische familienamen voor dan in het noorden. Kun je daar verklaringen voor bedenken?
5. Onderscheid in onderstaande tekst uit Wikipedia alle genoemde soort- en eigennamen (en geef aan van welk type de eigenaam is):

De Kloveniersburgwal werd aan het eind van de 15e eeuw gegraven, van de Sint Antoniespoort (thans Waag op de Nieuwmarkt) naar het zuiden, waar hij uitkwam op de Amstel. Aan de stadzijde (de westkant) werd een stadsmuur gebouwd, met drie kleine muurtorens en de grote muurtoren: Swijgh Utrecht (1481). Aan de muur grensden voornamelijk tuinen en boomgaarden, en het Bethaniënklooster. Op de vogelvluchtk kaart van Cornelis Anthonisz uit 1544 is dit goed te zien. Met de Geldersekaade en het Singel vormde de Kloveniersburgwal de 'stedegracht' rond de stad.

6. Waar kan de naam van de wijk *Ebbink* eerder naar verwezen hebben?
7. Welke vijf hoofdklassen van namen worden door Ebeling onderscheiden? Geef van elk een aantal voorbeelden.
8. Hieronder staat een fragment van de voornamenkaart van Nederland voor de stad Utrecht en omgeving. Ter oriëntatie: de witte gebieden zijn bedrijfsterreinen ten westen van het Amsterdam-Rijnkanaal, en het Centraal Station ligt ongeveer in het midden; linksboven ligt Maarsse, middenboven Westbroek, rechtsboven De Bilt, rechts Zeist, links Vleuten, linksonder Nieuwegein, rechtsonder Bunnik.



Welke naamgroepen zijn op de kaart vertegenwoordigd, en heb je er een verklaring voor?

9. Welke taalhistorische informatie kunnen we uit namen halen, volgens Blok?

10. Gerritzen vond in 1995 als naamkeuzemotieven van ouders de volgende percentages (er werd alleen naar "de naam van het kind" gevraagd)

1. Vernoemd naar ouders/grootouders/ander familielid	32,51
2. Mooie klank	31,68
3. Mooie naam	13,43
4. Leuke naam	8,34
5. Ongewone/bijzondere naam	7,66
6. Buitenlandse naam	5,32
7. Vernoemd naar persoon als: popster, sporter, filmster, naam in liedje e.d.	4,39
8. Uit voornamenboekje	4,20
9. Past bij naam/namen ander(e) kind(eren)	3,14
10. Nederlandse naam	2,82

...

- a) becommentarieer het percentage voor vernoeming naar familie
- b) de som van de percentages is groter dan 100%; hoe kan dat?
- c) er zijn mogelijke overlappen tussen de verschillende motieven; noem er een aantal.
Hoe zou je daar in onderzoekmeer controle over kunnen krijgen?
- d) zijn er nu, 15 jaar later, andere resultaten te verwachten; zo ja, welke?